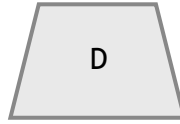
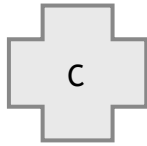
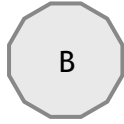
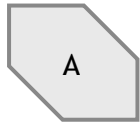


Nombre: Fecha: Curso:

1. Clasifica los siguientes polígonos en cóncavos y convexos



Polígonos cóncavos:

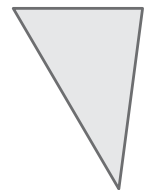
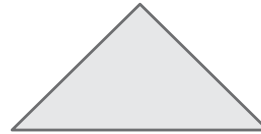
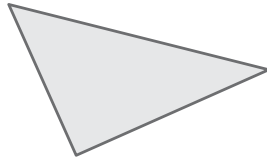

Polígonos convexos:

2. Relaciona cada triángulo con el nombre que le corresponda.

Rectángulo escaleno

Acutángulo equilátero

Acutángulo isósceles



Obtusángulo isósceles

Acutángulo escaleno

Rectángulo isósceles

3. Indica si las siguientes afirmaciones son verdaderas (V) o falsas (F).

- Los romboides tienen los lados iguales y los ángulos, iguales dos a dos.
- Los rombos tienen los ángulos iguales.
- Los trapecios tienen los lados paralelos dos a dos.
- Los cuadrados tienen los lados y los ángulos iguales.

Corrige las que son falsas.